

APLICAȚIE RECAPITULATIVĂ SCRATCH

CLASA A 5-A

(TEMĂ CREATĂ PENTRU GOOGLE CLASSROOM)

Prof. Carmen Nicoleta Avrănescu
Școala Gimnazială "Alexandru cel Bun" Bacău



Due May 20


Fisa 12 Scratch

10 points



Avramescu Carmen Nicoleta 11:58 AM (Edited 1:31 PM)

Într-un bol sunt mere, banane și portocale. Știind că merele sunt cu trei mai multe decât bananele, iar numărul de banane și portocale este cunoscut, afișați numărul total de fructe din bol și tipul fructului care predomină în bol. Salvați fișierul cu numele fructe.sb3 și atașați-l la prezenta temă.
ps: revin cu rezolvarea!



cos.png
Image



Aplicatie_recapitulativa_scr...
Word



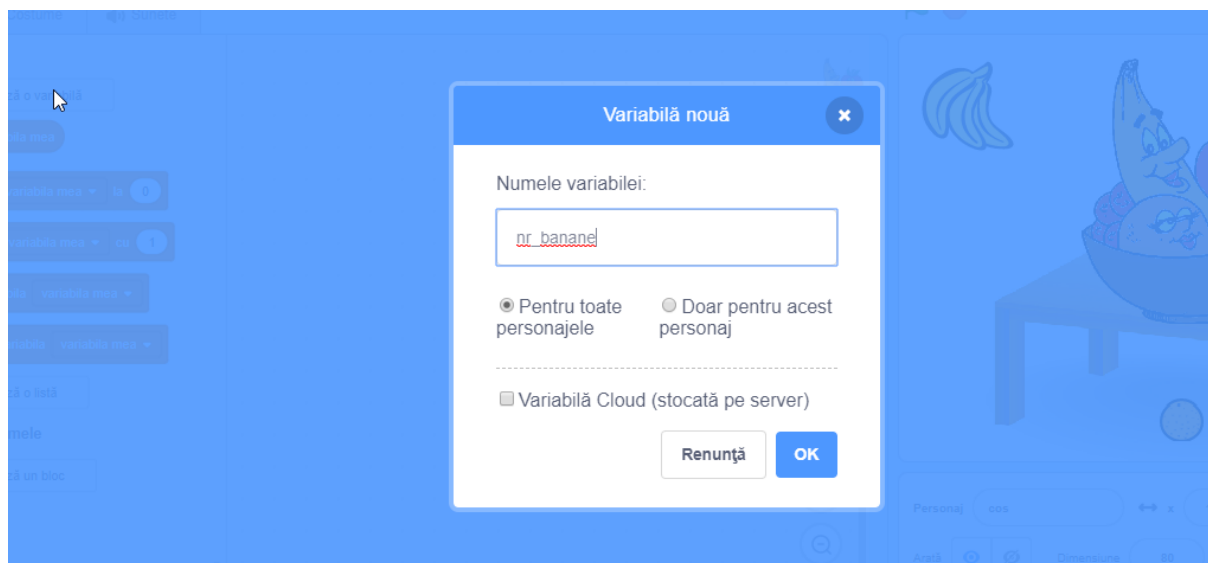
Fructe on Scratch
<https://www.loom.com/share/b8...>

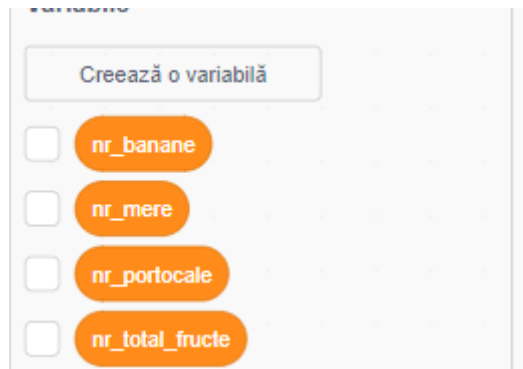
Enunț aplicație:

Într-un bol sunt mere, banane și portocale. Știind că merele sunt cu trei mai multe decât bananele, iar numărul de banane și portocale este cunoscut, afișați numărul total de fructe din bol și tipul fructului care predomină în bol. Salvați fișierul cu numele fructe.sb3 și atașați-l la prezenta temă.

Rezolvare:

Declarăm variabilele: număr de banane, număr de mere, număr de portocale, număr total de fructe.





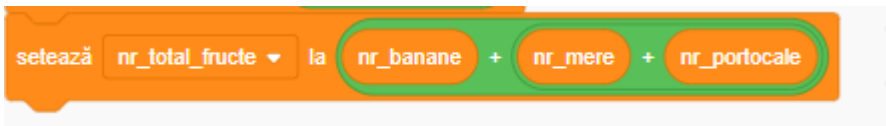
Citim de la tastatură datele de intrare (conform enunțului): numărul de banane și numărul de portocale.



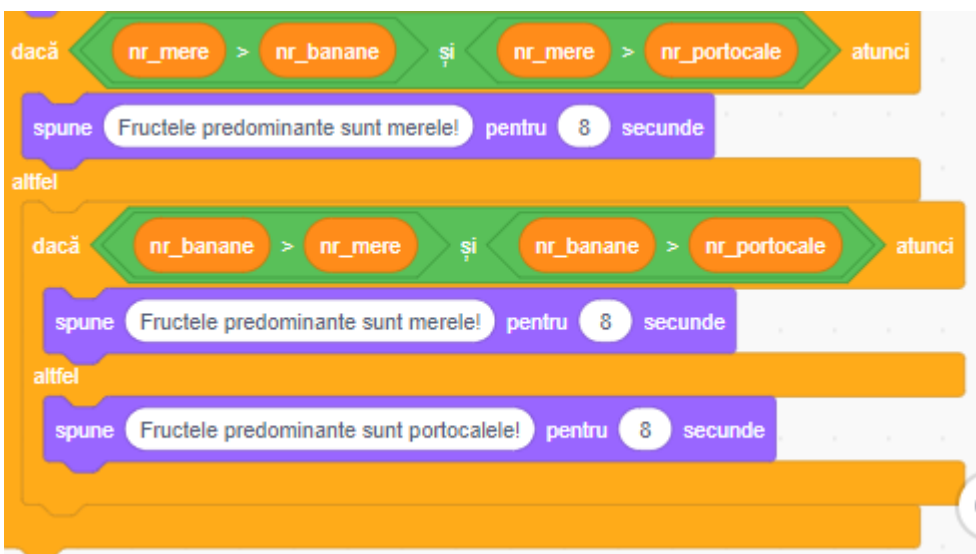
Să determinăm numărul de mere:



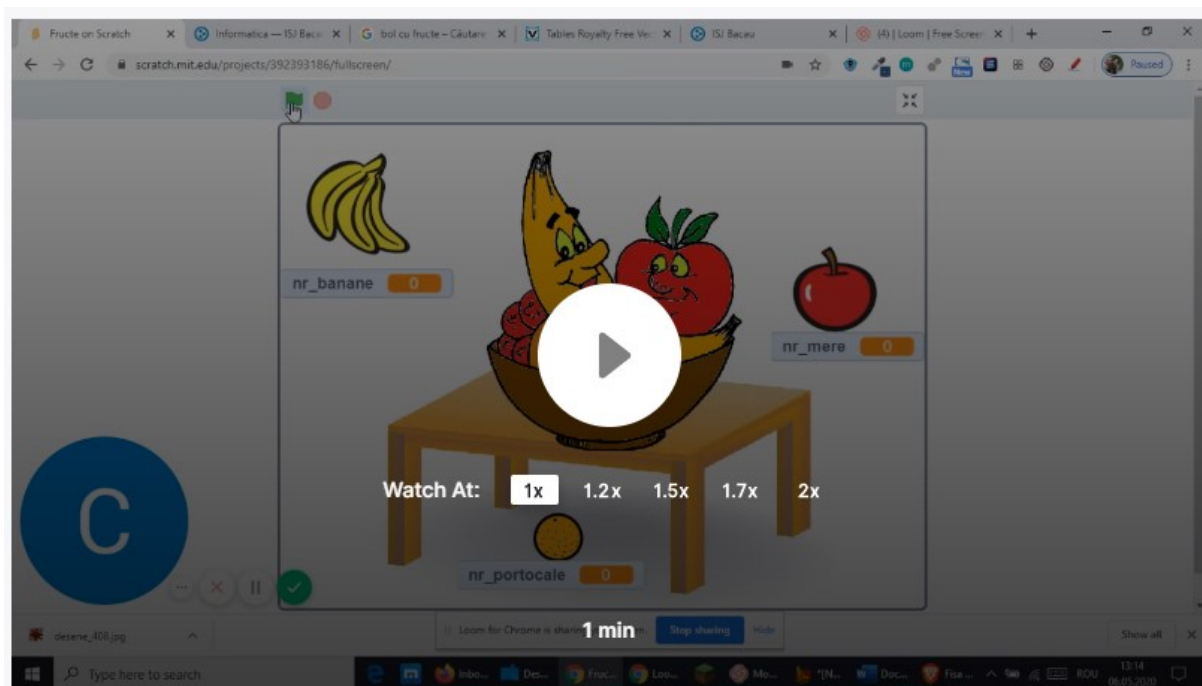
Să determinăm numărul total de fructe:



Să determinăm fructele predominante in coș:



Filmul cu relarea aplicatiei! (clic pe imagine pentru a-l vedea!)



[Clic aici pentru a descărca resursele folosite în rezolvarea aplicației](#)

Succes!

Bibliografie: "App store pentru micii informaticieni" – auxiliar pentru clasa a V-a, Carmen Diana Băican, Melinda Emilia Coriteac